



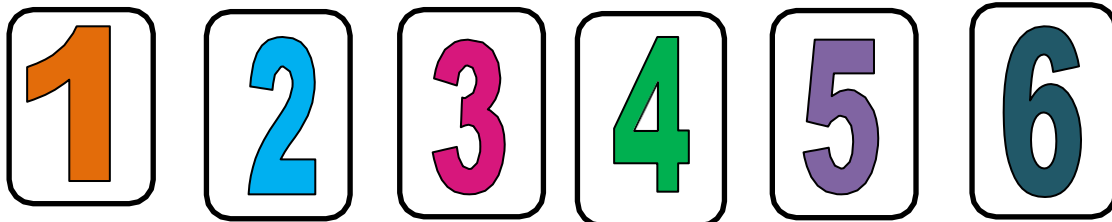
ATIVIDADE 2







PONTE DO SABER



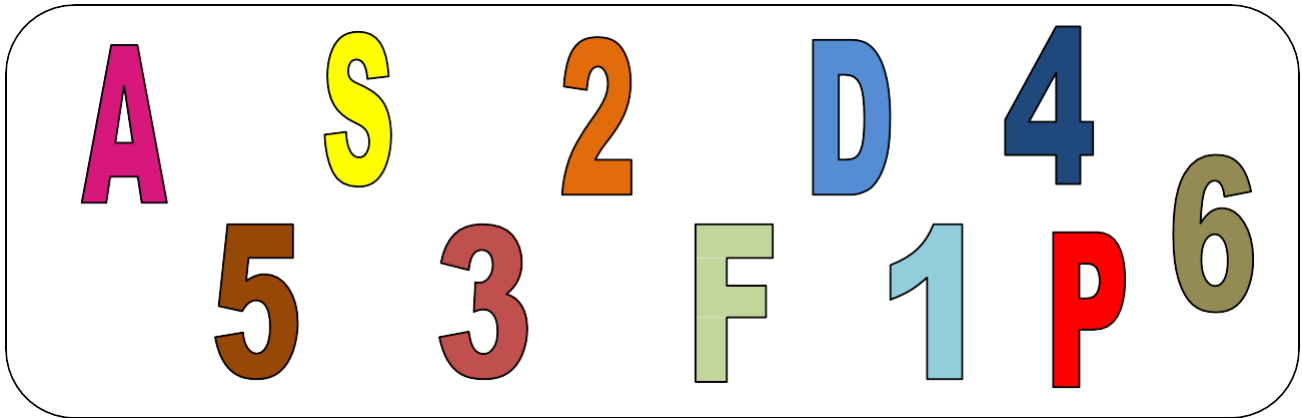
1º ano do Ensino Fundamental

1- OBSERVE OS NUMERAIS EM DESTAQUE E DEPOIS ASSINALE A QUANTIDADE CORRETA NAS ALTERNATIVAS ABAIXO:



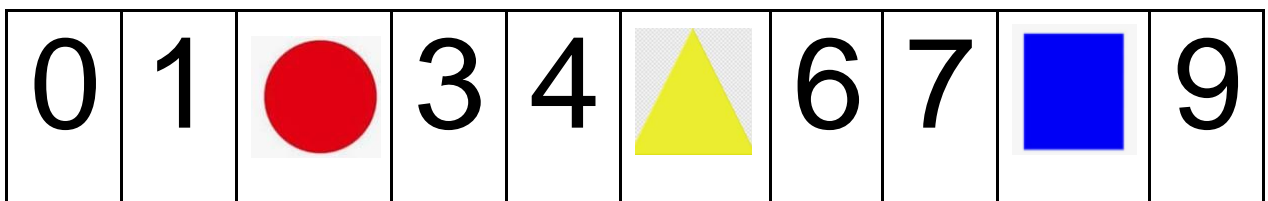
A)  <input type="checkbox"/> 2 <input type="checkbox"/> 3 <input type="checkbox"/> 1	B)  <input type="checkbox"/> 2 <input type="checkbox"/> 3 <input type="checkbox"/> 5
C)  <input type="checkbox"/> 2 <input type="checkbox"/> 4 <input type="checkbox"/> 5	D)  <input type="checkbox"/> 2 <input type="checkbox"/> 4 <input type="checkbox"/> 3
E)  <input type="checkbox"/> 1 <input type="checkbox"/> 3 <input type="checkbox"/> 6	F)  <input type="checkbox"/> 6 <input type="checkbox"/> 3 <input type="checkbox"/> 4

2- IDENTIFIQUE OS NÚMEROS QUE APARECEM NO QUADRO E ASSINALE A ALTERNATIVA EM QUE ESTÃO EM ORDEM CRESCENTE (DO MENOR PARA O MAIOR).



- A) 1 - 5 - 3 - 4 - 2 - 6
- B) 1 - 2 - 3 - 4 - 5 - 6
- C) 6 - 5 - 4 - 3 - 2 - 1

3- IDENTIFIQUE OS NÚMEROS QUE ESTÃO COBERTOS PELAS FIGURAS GEOMÉTRICAS E ASSINALE A ALTERNATIVA CORRETA:



- A) 2 - 5 - 8
- B) 2 - 4 - 8
- C) 3 - 5 - 7